

# GIOCHI DI LOGICA

1



Secondo me

---

2

## Attenti alle mele!

Con i miei amici sono andata nell'orto a raccogliere le mele mature. Le abbiamo sistemate in una cesta tutte assieme, anche se erano di 3 qualità diverse. Quando siamo rientrati in casa abbiamo deciso di fare un gioco. Con gli occhi bendati, a turno, avremmo cercato di pescare dalla cesta due mele dello stesso tipo.


? *Quante mele era necessario prendere per averne due della stessa qualità? A chi indovina una mela in premio! E state tranquilli non è né quella di Eva né quella di Biancaneve!*



Era necessario prendere \_\_\_\_\_ mele

## IL GIORNO LIBERO

Antonio vide su un giornale che l'ultima settimana del mese successivo ci sarebbe stata una grande manifestazione aviatoria. Sfortunatamente il posto dove si sarebbe tenuta era lontano almeno cinquanta chilometri ed era molto scomodo da raggiungere, perché non c'erano treni e autolinee che ci arrivassero.



Ma anche il padre di Antonio desiderava essere presente alla manifestazione, così lo prese con sé per andare all'autonoleggio e prenotare una macchina con l'autista.

«Ehm!» disse il proprietario dell'autonoleggio. «Per quella settimana sarà piuttosto difficile. Lunedì le macchine sono tutte impegnate per una comitiva di stranieri; martedì devo andare al funerale della signora Rossi e l'autonoleggio è chiuso; mercoledì è il mio giorno libero; giovedì e venerdì sono giorni di mercato e le macchine sono già tutte prenotate. Sabato e domenica devo tenerle libere per i visitatori di fine settimana. Sembra proprio, cari signori, che non vi potrò accontentare quella settimana!»

Il padre di Antonio si mostrò molto contrariato, ma Carlo fece un sorrisetto. «Bene» disse «allora andremo martedì».



*Perché Carlo era proprio sicuro che martedì l'autista sarebbe stato libero?*

**Perché**

---


# LA PAROLA D'ORDINE

AL CASTELLO SI SVOLGE UNA RIUNIONE SEGRETA. IL CAVALIERE NERO NON CONOSCE LA PAROLA D'ORDINE, MA HA DECISO DI PARTECIPARE UGUALMENTE.

MI NASCONDERO' VICINO ALL'INGRESSO E CARPIRO' IL SEGRETO PER ENTRARE.



ALL'ORA STABILITA ARRIVA IL CAVALIERE VERDE...



VENTIQUATTRO.




DODICI.

ENTRATE, NOBILE SIGNORE!




E' IL TURNO DEL CAVALIERE ROSSO...



DODICI.

SEI.






La regola è

---

# La lumaca

Un giorno una lumaca decise di cambiare casa e di trasferirsi in un orto vicino, ricco di gustosi cavoli, di verdure deliziose e dei più prelibati ortaggi che una lumaca di palato raffinato potesse desiderare. L'unico problema era la presenza di un muro di separazione alto 7 metri. La lumaca, portandosi dietro casa e suppellettili si accinse a valicarlo. Ogni giorno saliva verticalmente di 4 metri, ma, dato che il muro era umido e scivoloso, ogni notte ricadeva in giù di 3 metri. Ogni giorno percorreva così effettivamente solo 1 metro del suo faticoso viaggio.

? In quanti giorni la povera lumaca arrivò in cima al muro?



La mia risposta è \_\_\_\_\_ giorni

## IL BALLO DEL QUA QUA

Sono seduto sulla riva di un laghetto, godo ad occhi chiusi del tepore di un piacevole sole primaverile e sogno spiagge tropicali, quando d'improvviso un batter di ali e un impertinente qua qua mi riportano alla realtà. Vedo avanzare in allegra formazione due anatre dal brillante collo verdeazzurro davanti a due anatre orgogliosamente impettite, due anatre dietro a due anatre e due anatre in mezzo.




Riconosco di essere ancora nel mondo dei sogni, mi stropiccio gli occhi e guardo con più attenzione...

? Quante anatre stanno nuotando davanti a me?

Davanti a me stanno nuotando \_\_\_\_\_ anatre

## IL GIOCO DEI PUPAZZI

Sono andato al Luna park con i miei amici. Ci siamo divertiti sulle giostre e con vari giochi di abilità. Uno di questi ci ha entusiasmato più degli altri, perché si potevano vincere premi molto belli. Si chiamava «Gioco dei pupazzi» e consisteva nel far cadere alcuni bellissimi pupazzi di peluche colpendoli con delle palle, in modo da totalizzare i 50 punti che davano diritto ad un premio. Ogni tiro costava mille lire e noi purtroppo finimmo i nostri soldi ancora prima di capire quali pupazzi avremmo dovuto colpire per totalizzare 50 punti.



? Osserva il punteggio dei pupazzi e indovina in quale modo avremmo vinto il premio.

La mia "combinazione" è... \_\_\_\_\_

 LA LETTERA

28 giugno, domenica, ore 10

Caro Filippo, ti scrivo per dirti che i giorni trascorsi in tua compagnia sono stati supersuperfantastici e spero proprio che ritornerai un'altra volta, prima che le vacanze finiscano.

Venerdì prossimo parto per il mare perciò ti manderò da là mie notizie. Ah, dimenticavo di dirti che venerdì scorso hai lasciato qui il tuo impermeabile; spero proprio che il tempo sia sempre bellissimo e che tu non abbia bisogno di usarlo, ma se vuoi puoi farlo venire a prendere da tuo padre; non mi hai detto che mercoledì prossimo deve passare da queste parti per motivi di lavoro? Fammi sapere qualcosa. Ciao!

Andrea

P.S. Sto ascoltando l'ultimo C.D. degli U2: è strepitoso! Provare per credere!



- 1) In quale data è stato dimenticato l'impermeabile?
- 2) In quale data il padre di Filippo andrà a ritirarlo?
- 3) In quale data Andrea partirà per il mare?
- 4) Di che colore è l'impermeabile di Filippo?

**Le mie risposte:**

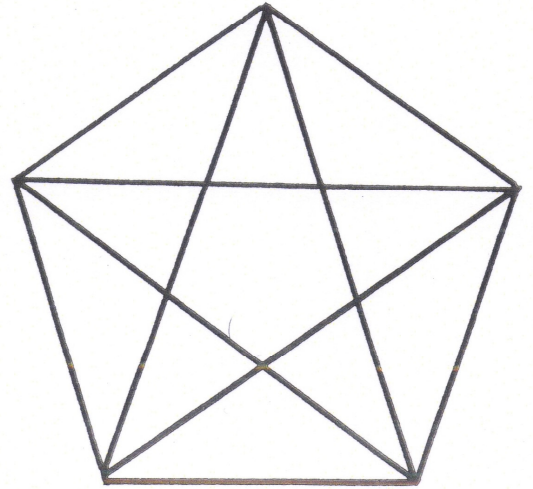
1) \_\_\_\_\_ / \_\_\_\_\_ 2) \_\_\_\_\_ / \_\_\_\_\_ 3) \_\_\_\_\_ / \_\_\_\_\_

4) \_\_\_\_\_

9



FATE IL CONTO



Osserva il pentagono regolare.



Quanti triangoli vedi?

Io vedo \_\_\_\_\_ triangoli

10



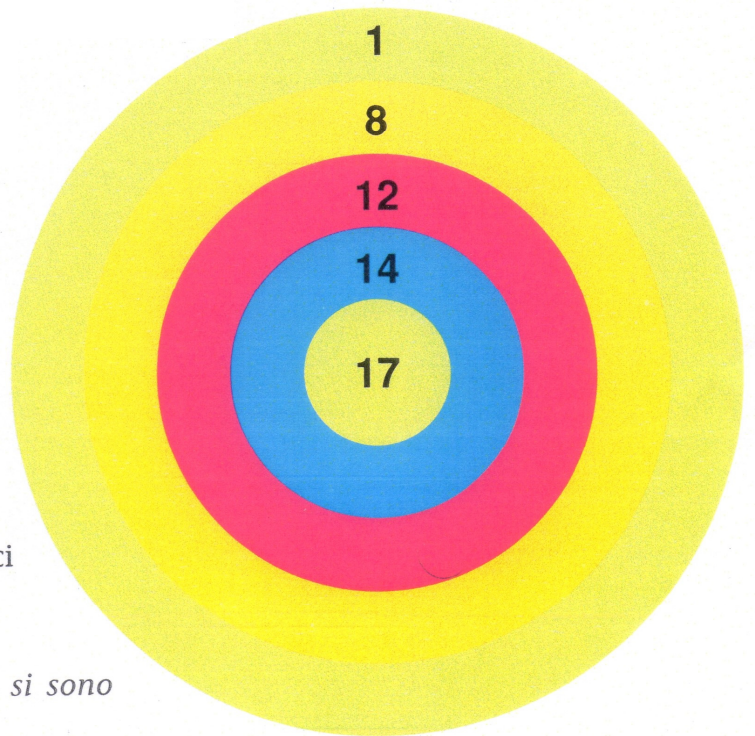
LE FRECCHE



Marco ha vinto la gara di tiro al bersaglio con i suoi amici, totalizzando 35 punti con quattro lanci di frecce.



In quali settori del bersaglio si sono conficcate le frecce?



Le frecce si sono conficcate nei settori

\_\_\_\_\_